

ПРАВИЛЬНЫЕ РЕШЕНИЯ ЗАДАНИЙ

первого (отборочного) этапа Республиканской школьной олимпиады «Будущее Республики» по общеобразовательному предмету «История», проведенной 23 января 2021 г.

ГОУ ВПО «Донецкий национальный университет»

Задание 1.

1.1. Установите соотношение между Ярославичами и их внуками, удельными князьями Руси. У каждого из Ярославичей может быть указано от одного до трех внуков (3 балла)

- А. Изяслав
- Б. Святослав
- В. Всеволод

- 1. Мстислав Владимирович
- 2. Брячислав Святополкович
- 3. Изяслав Давыдович
- 4. Всеволод Ольгович
- 5. Ростислав Ярославович
- 6. Ярослав Ярополчич
- 7. Святослав Игоревич
- 8. Вячеслав Ярославич

Ответ: А. – 2,6 Б- 3,4,5 В -1

1.2. Укажите события мировой истории, происходившие в годы жизни каждого из внуков Ярославичей (3 балла)

- 1. Тулузский поход Генриха II
- 2. Начало борьбы за инвеституру между папой Григорием VII и императором Генрихом IV
- 3. Вступление Генриха IV в Рим и коронация его императором.
- 4. Вормсский конкордат
- 5. Начало правления Людовика VII
- 6. Окончание второго Крестового похода

- А. Мстислав Владимирович
- Б. Брячислав Святополкович
- В. Изяслав Давыдович
- Г. Всеволод Ольгович
- Д. Ростислав Ярославович
- Е. Ярослав Ярополчич
- Ж. Святослав Игоревич
- З. Вячеслав Ярославич

Ответ: 1-В, 2-Е, 3-А, 4-Б, 5-Г, 6-Д

Задание 2. Установите соответствие между деятелями культуры и их произведениями, установив шесть правильных соответствий (3 балла)

- | | |
|-----------------------------------|------------------------|
| 1. Успенский собор во Владимире | А. Д. Конь |
| 2. Церковь Покрова на Нерли | Б. М. Казаков |
| 3. Грановитая палата | В. И. Ширяй (Барма) |
| 4. Большой Кремлевский дворец | Г. Б. Руффо, П. Солари |
| 5. Петропавловская крепость | Д. В. Растрелли |
| 6. Большой Гатчинский дворец | Е. А. Рублев |
| 7. Никольская церковь в Каргополе | Ж. К. Тон |
| 8. Казанский кремль | З. Д. Трезини |
| 9. Погост Кижы | И. Ф. Шехтель |
| 10. Ферапонтов монастырь | К. А. Чохов |
| 11. Зимний Дворец | Л. И. Аргунов |
| 12. Петровский путевой дворец | М. Ф. Рокотов |

Ответ: 3-Г, 4-Ж, 5-З, 8-В, 11-Д, 12-Б

Задание 3.

3.1. Укажите, какое событие изображено на рис. 1? (1 балл)



Рис.1

- А. «Битва золотых шпор»;
- Б. Сражение у Гохштедта;
- В. Полтавская Битва;
- Г. Взятие Нарвы

Ответ: В

3.2. Назовите современников русского главнокомандующего, участвовавшего в сражении на рис.1, выбрав четыре правильных варианта ответа (2 балла)

- А. А. Контарини
- Б. Г.Р. Державин

- В. Леопольд I
- Г. Филипп IV Красивый
- Д. Людовик XIV
- Е. Е.Л. Даддани
- Ж. М.М. Бородин
- З. Генрих фон Фик

Ответ: В,Д,Е,З

Задание 4.

4.1. Укажите, когда произошло событие, о котором идет речь: «Восставшие не выдвигали никаких требований и не преследовали никаких политических целей. Они искали средства для существования и выживания, и поэтому занимались грабежами и разбоями. Характерно, что еще со времен Бориса Годунова это движение также называлось не «восстание», а «разбой»»? (1 балл)

- А. 1603-1606;
- Б. 1605-1607;
- В. 1601-1603;
- Г. 1649

Ответ: В

4.2. Из приведенного перечня выберите категорию населения, участвовавшую в событии, описанном выше в соответствии с позицией современной отечественной историографии (1 балл)

- А.Крепостные крестьяне;
- Б. Военные холопы;
- В.Казачи;
- Г. Мелкое дворянство

Ответ: Б

Задание 5.

5.1. Установите хронологическую последовательность ханов Золотой Орды в эпоху «Великой Замятни» (1 балл)

- А. Науруз;
- Б. Кульна;
- В. Тимур-ходжа;
- Г. Хызр

Ответ: Б, А, Г, В

5.2. Какой из представленных правителей Золотой Орды отказал в выдаче великокняжеского ярлыка Дмитрию Ивановичу, князю Московскому? (1 балл)

- А. Науруз;
- Б. Кульна;
- В. Тимур-ходжа;
- Г. Хызр

Ответ: А

Задание 6. Перечислите личностей, принимавших участие в руководстве строительством Волжской рокадной железной дороги, сыгравшей ключевую роль в обеспечении советских войск в ходе Сталинградской битвы? Выберите три правильных варианта ответа (1,5 балла)

- А. Н.А. Френкель;
- Б. М.Л. Бондаренко;
- В. Б.Л. Ванников;
- Г. И.Г. Зубков;
- Д. Д.Ф. Устинов;
- Е. Л.П. Берия

Ответ: А,Б,Е

Задание 7. Назовите имена правителей Российской империи, которые изображены на портретах, расположите их в хронологической последовательности (2 балла)



Рис.1



Рис.2



Рис.3



Рис.4

Ответ: Екатерина 1 (Рис.1), Анна Иоанновна (Рис 3.), Елизавета 1 (Рис.2), Екатерина II (Рис.4)



Задание 8. Соотнесите название фронта и имя его командующего на июнь 1944 г. (2 балла)

1. Третий Белорусский
2. Первый Прибалтийский
3. Первый Украинский
4. Четвертый Украинский

- А. Соединение расформировано
- Б. И.С. Конев
- В. И.Х. Баграмян
- Г. И.Д. Черняховский

Ответ: 1-Г, 2-В, 3-Б, 4-А

Задание 9. Соотнесите фото (рисунок 1 – 4) и исторические события, которые отражены на нем (4 балла)

 <p>Рис.1</p>	<p>А. Операция «Анадырь»</p>
 <p>Рис.2</p>	<p>Б. Переговоры Дж. Кеннеди и А.А. Громыко (18.10.1962)</p>

	<p>В. Встреча Ф.Кастро и Н.С. Хрущева(1963)</p>
	<p>Г. Суд на Гэри Пауэрсом</p>
<p>Рис.3</p>	<p>Рис.4</p>
	<p>Д. Встреча Н.С. Хрущева и Д. Эйзенхауэра (1959)</p>

Ответ: Рис.1-Г, Рис.2-А, Рис.3-Б, Рис.4-В

Задание 10. Укажите, какая из представленных работ создана художником, о жизни которого биографы сообщают следующие факты: «Заработанные деньги великий художник тратил не только на свою семью, но и на родной город. На его средства в Феодосии была построена галерея, школа и музей. Также художник способствовал прокладке железнодорожного пути в Джанкой» (1 балл)



Рис.1



Рис.2



Рис.3



Рис.4

Ответ: Рис.1

Задание 11.

11.1. Первый из русских правителей добился права на развод и последующий брак (1 балл)

- А. Василий III
- Б. Иван IV
- В. Петр I
- Г. Алексей Михайлович

Ответ: А

11.2. Определите события, связанные с правителем, о котором речь идет выше (1 балл)

- А. Ливонская война
- Б. Осады Смоленска
- В. Поход Девлет-Гирея на Москву
- Г. Первая «Семибоярщина»

Ответ: Б

Задание 12. Установите хронологическую последовательность представленных событий (1 балл)

- А. Брестский мирный договор;
- Б. Эсеровский мятеж в Москве;
- В. Восстание чехословацкого корпуса;
- Г. Декрет о земле;
- Д. Высадка войск интервентов в Мурманске, Архангельске;
- Е. Ижевско-воткинское восстание;
- Ж. Провозглашение ДКР

Ответ: Г, Ж, А, Д, В, Б, Е.

Задание 13.

13.1. Кто из исторических персоналий, изображенных на рис. 1-4, стал прототипом И.Л. Татаринова в романе В. Каверина «Два капитана»? (1 балл)



Рис.1



Рис.2



Рис. 3




Рис. 4

Ответ: Рис. 1

13.2. Кто из исторических персоналий, изображенных на рис. 1-4, является первым человеком, достигшим одного из полюсов Земли (1 балл)

Ответ: Рис. 2

Задание 14. Установите соответствие между датой и историческим событием (2 балла)

1. Горловское восстание
2. «Кровавое воскресенье»
3. Подавление Краснопресненского восстания
4. Провозглашение Люботинской республики

- А. 09.12.1905
Б. 31.12.1905
В. 09.01.1905
Г. 26.05.1905
Д. 16.06.1905

Ответ: 1-А, 2-В, 3-Б, 4-Г

Задание 15. Укажите события связанные с личностью, изображенной на портрете (1,5 балла)



- А. Проект политической реформы
- Б. Борьба с чумой в Екатеринославе
- В. Расформирование Государственной думы
- Г. В 1877 г. участвовал во взятии Карса
- Д. Деятельность Верховной распорядительной комиссии
- Е. Реформирование системы политического сыска

Ответ: А, Г, Д

Задание 16. Укажите, какое из представленных произведений искусств создано художником, награждённым орденом Святого Георгия 4-й степени за участие в Туркестанских походах (1 балл)



Рис.1



Рис.2




Рис.3



Рис.4

Ответ: Рис.1

Задание 17.

17.1. Установите хронологическую последовательность событий (1 балл)

- А. Второй штурм Порт-Артура
- Б. Цусимское сражение
- В. Мукденское сражение
- Г. Бой у Чемульпо
- Д. Подрыв броненосца «Петропавловск» на mine

Ответ: Г, Д, А, В, Б

17.2. Установите соответствие между командующими и событиями русско-японской войны 1904-1905 гг. (2,5 балла)

- | | |
|--|-----------------------|
| А. Второй штурм Порт-Артура | 1. В.Ф. Руднев |
| Б. Цусимское сражение | |
| В. Мукденское сражение | 2. С.О. Макаров |
| Г. Бой у Чемульпо | 3. А.М. Стессель |
| Д. Подрыв броненосца «Петропавловск» на mine | 4. А.Н. Куропаткин |
| | 5. З.П. Рожественский |

Ответ: А-3, Б-5, В-4, Г-1, Д-2

Задание 18. Укажите, какое событие связано с личностью, изображенной на Рис.1 (1 балл)



- А. Занял пост министра юстиции
- Б. Выполнял обязанности Обер-прокурора
- В. Объявил о роспуске Государственной думы
- Г. Разработал «Конституцию» Российской империи

Ответ: Г

Задание 19.

19.1. В годы правления этой императрицы был урегулирован территориальный конфликт в среде казачества на юге Российской империи (1 балл)

- А. Екатерина I
- Б. Анна Иоанновна
- В. Елизавета Петровна
- Г. Анна Леопольдовна

Ответ: В

19.2. Какие события связаны с правлением императрицы, о которой идет речь в задании 19.1., выбрав три правильных варианта ответа (1 балл)

- А. Присоединение Среднего жуза
- Б. Победа в Семилетней войне
- В. Принимала участие в войне за Испанское наследство
- Г. Восстановление должности малороссийского гетмана
- Д. Поражение в войне со Швецией 1741-1743 гг.
- Е. Основала Новую Сербию

Ответ: А, Г, Е

Задание 20. Установите соответствие между авторами и их работами (4 балла)

А. Этот художник был изображен на карикатуре В.В. Маяковского



Рис.1

Б. Художник, описавший события во времена правления Ивана IV, происходившие в 1581-1585 гг.



Рис.2

В. Изобразил известного ученого, в честь которого названа одна из форм гепатита



Рис.3

Г. Художник, который вместе с живописцем М.Э. Андриолли участвовал в росписи Кафедрального собора в г. Вятка



Рис.4

Ответ: А. Рис.1, Б. Рис. 2, В. Рис.4, Г. Рис. 3

Задание 21.

21.1. Укажите, какие из представленных племен не были соседями восточных славян, выбрав четыре правильных варианта ответа (1 балл)

- А. Печенеги
- Б. Остготы
- В. Хазары
- Г. Булгары
- Д. Гунны
- Е. Тюрки-сельджуки
- Ж. Вандалы
- З. Чудь

Ответ: Б, Д, Е, Ж

21.2. Установите соотношение названия народа и его характеристики (1,5 балла)

А. Индоевропейцы	1. Группа кочевых племен, которые известны в южнорусских степях с середины VI в. Их происхождение связывают с Центральной Азией.
------------------	--

	На территории Европы создали государственное объединение кочевых народов...
Б. Печенеги	2. Группа ираноязычных племен, родственных сарматам, которые обитали в южнорусских степях в II—IV вв. Пришли они с востока, вероятно, из Центральной Азии, где шел процесс их формирования
В. Киммерийцы	3. Общность народов, имеющих единое происхождение и являющихся предками большинства народов Северной Индии, Пакистана, Афганистана, Западной, Центральной и Восточной Европы
Г. Аланы	4. Древние племена, кочевавшие в северопричерноморских степях в раннем железном веке, упоминаемые в древнегреческой поэме Гомера «Одиссея», а также в ассирийских, урартских клинописных текстах. С этим народом отождествляют черногоровскую археологическую культуру
Д. Ногайцы	5. Тюркский народ, племена восточных кыпчаков, которые появились на территории Приазовья во второй половине XIV в., часть населения откочевала за Волгу, разместилась в Предкавказье и Восточном Приазовье
Е. Авары	6. Тюркоязычные кочевые племена VIII—IX вв., прародиной которых считаются северные районы Средней Азии. В конце IX в. направились в сторону Восточной Европы. После краха Хазарского каганата (965) распространили власть над степями к западу от Волги.
Ж. Скифы	

Ответы: А-3, Б-6, В-4, Г-2, Д-5, Е-1

Задание 22. Укажите ряд, в котором правильно указаны имена советских военачальников, принимавших участие в Гражданской войне в Испании (1 балл)

- А. И. Д. Черняховский, Р.Я. Малиновский, Н.Г. Кузнецов
- Б. А.И. Еременко, А.В. Горбатов, Н.Г. Кузнецов
- В. Р.Я. Малиновский, Д.Г. Павлов, Н.Г. Кузнецов
- Г. А.В. Горбатов, А.А. Новиков, И.В. Панфилов
- Д. К.К. Рокоссовский, А.М. Василевский, К.С. Москаленко
- Е. И.А. Плиев, К.К. Рокоссовский, А.М. Василевский
- Ж. Р.Я. Малиновский, Д.Г. Павлов, И.А. Плиев

3. А.И. Еременко, А.В. Горбатов, К.С. Москаленко

Ответ: В

Задание 23. Расположите имена московских князей в хронологической последовательности: (1 балл)

- А. Дмитрий Донской
- Б. Иван IV
- В. Иван Калита
- Г. Василий II Темный
- Д. Юрий Данилович
- Е. Иван III
- Ж. Семен Гордый
- З. Василий III

Ответ: Д, В, Ж, А, Г, Е, З, Б.

Задание 24. Установите соответствие между датами и событиями (1 балл)

- | | |
|---|-----------------------------------|
| А. Операция РККА «Суворов» | 1. 13-27 января 1943 года |
| Б. Операция РККА «Марс» | 2. 7 августа-2 октября 1943 года |
| В. Острогожско - Россошанская операция РККА | 3. 16-30 октября 1944 года |
| Г. Гумбиннен - Гольдапская операция РККА | 4. 25 ноября-20 декабря 1942 года |

Ответ: А-2, Б-4, В-1, Г-3.

Задание 25. Соотнесите картографическое изображение с названием битвы (1 балл)

<p>Войска Тевтонского ордена</p> <p>Позота Конные дружины</p> <p>Конные дружины</p> <p>Русское войско</p> <p>Тяжеловооруженные рыцари</p> <p>Прочие воины (кнехты)</p> <p>Удары русских войск</p> <p>Удары немецких рыцарей</p>	<ul style="list-style-type: none">А. Раковорское сражениеБ. Невская битваВ. Ледовое побоищеГ. Сражение на о. Хасан
---	---

Рис.1

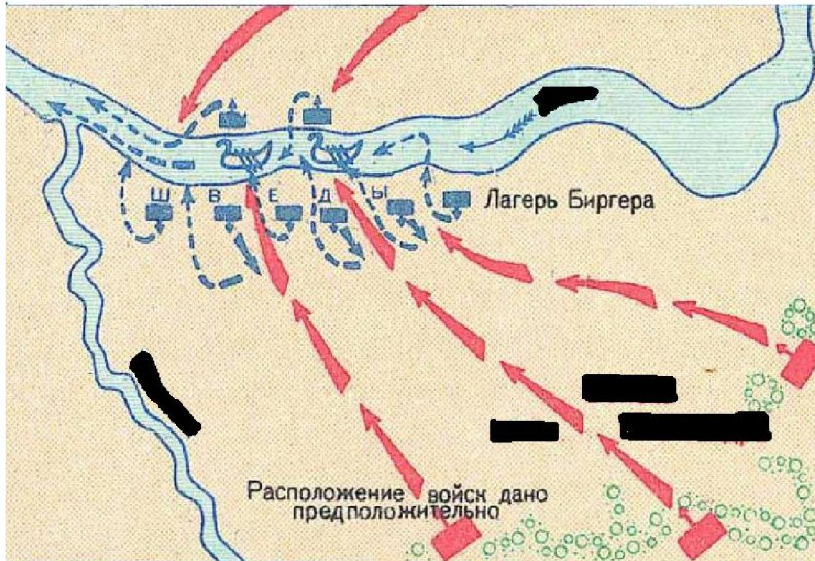


Рис.2

- А. Битва за Днепр
- Б. Невская битва
- В. Битва на Волге
- Г. Стояние на Угре
- Д. Битва на р.Калка

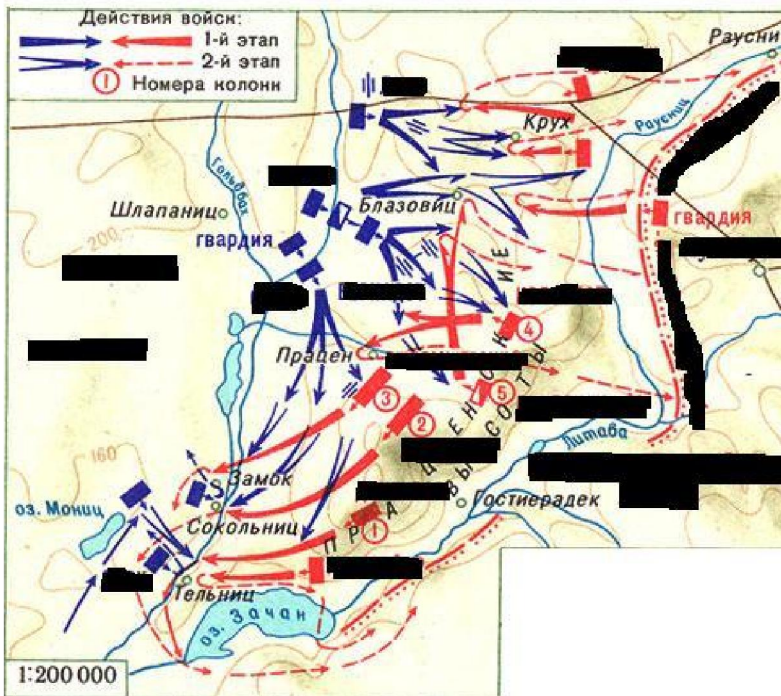
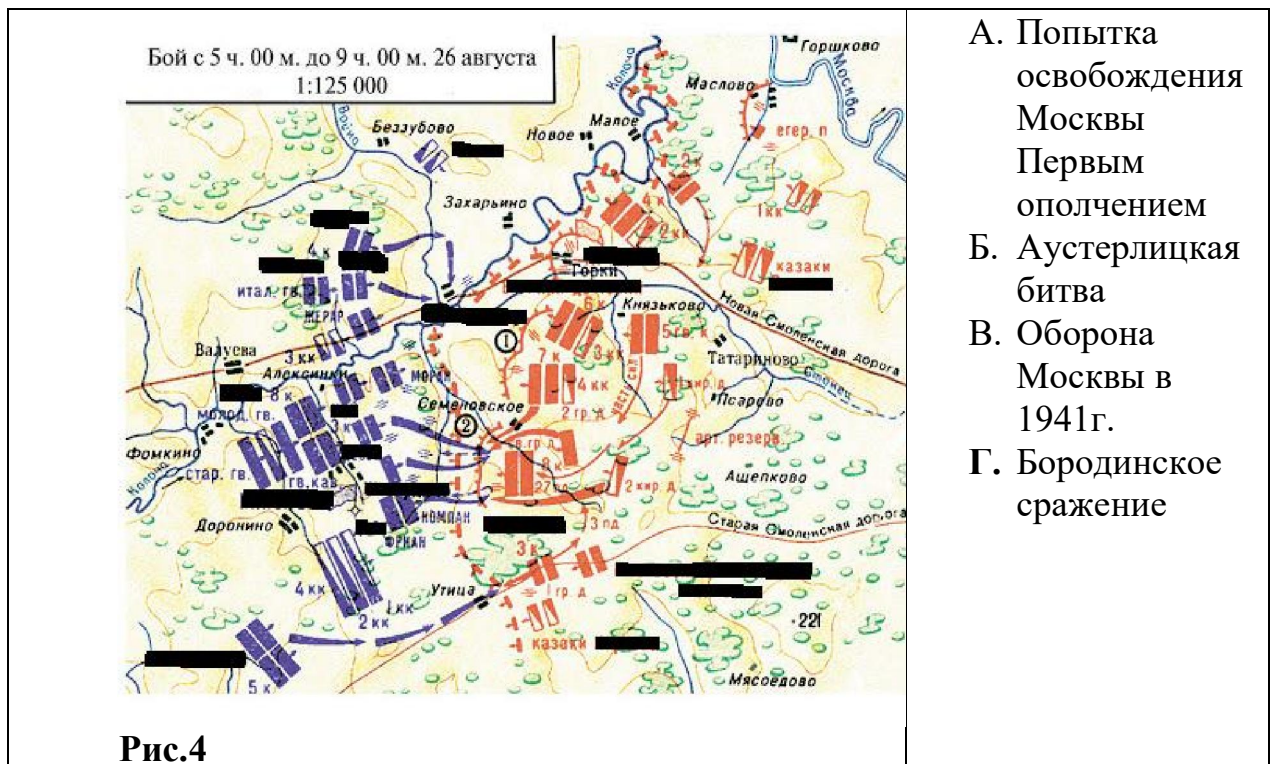


Рис. 3

- А. Трафальгарское сражение
- Б. Аустерлицкая битва
- В. битва при Фридланде
- Г. Бородинское сражение



- А. Попытка освобождения Москвы Первым ополчением
- Б. Аустерлицкая битва
- В. Оборона Москвы в 1941г.
- Г. Бородинское сражение

Ответ: 25. Рис.1-В, Рис.2-Б, Рис.3-Б, Рис.4-Г

Задание 26.

26.1. Укажите города, в которых в 1650-х не происходили восстания (0,75 балла)

- А. Псков
- Б. Курск
- В. Москва
- Г. Новгород
- Д. Казань

Ответ: Б,В,Д

26.2. Кто из представленных личностей возглавлял восстания в 1650 г. городах, указанных выше в период Бунташного века: (0,75 балла)

- А. С. Разин
- Б. П. Коза
- В. Г. Отрепьев
- Г. Е. Пугачев
- Д. Т. Акундинов
- Е. Т. Васильев
- Ж. И. Жеглов

Ответ: Б, Е, Ж

Задание 27. Укажите события, относящиеся ко времени правления монарха, изображенного на портрете: (1 балл)



- А. Отмена крепостного права
- Б. Тильзитский мир
- В. деятельность М.М. Сперанского
- Г. военная реформа А.А. Аракчеева
- Д. Земская реформа
- Е. Судебная реформа
- Ж. Реформа городского самоуправления
- З. Реформа среднего образования

Ответ: Б, В, Г

Задание 28. Соотнесите название термина и его характеристику (3,5 балла)

А. Новая Сербия	1.Административно-территориальная единица Российской империи, сформированная в 1708 г. в ходе губернской реформы Петра I. Состояла из 5 провинций – Воронежской, Елецкой, Тамбовской, Шацкой,
-----------------	---

	Бахмутской.
Б. Станица	2.Административно-территориальная единица, созданная в результате административной реформы, проведенной Павлом I (1796–1801), включающая Левобережную Украину; делилась на поветы.
В. Азовская губерния	3. Одно из исторических региональных названий Центральной и Левобережной Украины (Гетманщины) во второй половине XVII–XVIII вв.
Г. Славяносербия	4. Военно-административная единица в Российской империи, созданная правительством в северо-западной части Запорожья (территория Кодацкой и Бугогардовской паланок Войска Запорожского), которая была заселена в 1751–1764 гг., а затем вошла в состав созданной Екатериной II Новороссийской губернии.
Д. Сторожевая служба	5. Дозорный подвижный пост, посылаемый в дозор «на Поле» с 1 апреля поочередно сроком на две недели, комплектующийся из казаков и служилых людей.
Е. Малороссийская губерния	6. Область военно-земледельческих поселений в районе среднего течения (правый берег) Северского Донца в 1753–1764 гг.
Ж. Малороссия	7. Организация пограничного наблюдения и быстрого реагирования на вторжение

	противника, положение о которой было разработано воеводой М. И. Воротынским.
--	--

Ответы: А-4, Б-5, В-1, Г-6, Д-7, Е-2, Ж-3

Задание 29. Какое сражение изображено на гравюре Маврикия Бакуа? Когда, где и в ходе какой войны оно произошло
(1 балл)



А. Цусимское сражение, 1905 г., Цусимский пролив, Русско-Японская война

Б. Битва при Лепанто, 1571 г., мыс Скоф, Турецко-Венецианская война

В. Гангутское сражение, 1714 г., мыс. Гангут, Северная война

Г. Синопское сражение, 1853 г., порт Синоп, Крымская война

Ответ: В. Гангутское сражение, 1714 г., мыс. Гангут, Северная война

Задание 30. Из приведенного перечня выберите события связанные с «Военной тревогой 1927г.»? (1 балл)

- А. Постановление Политбюро ЦК ВКП(б) о состоянии обороны СССР
- Б. Борьба с рабочей оппозицией в ВКП(б)
- В. Санкции со стороны Великобритании в отношении СССР
- Г. Признание США СССР
- Д. Убийство В. Мирбаха
- Е. Смерть Фрунзе
- Ж. Формирование механизированных корпусов в РККА

Ответ: А, Б, В

Задание 31. Укажите из перечисленных дважды героев СССР, проходивших службу в годы Великой Отечественной войны в 16 гв.иап., выбрав два правильных варианта ответа (2 балла)

- А. И.Н. Кожедуб
- Б. А.И. Покрышкин
- В. Л.В. Литвяк
- Г. А.П. Маресьев
- Д. Г.А. Речкалов
- Е. А.Ф. Клубов

Ответ: Д, Е

Задание 32.

32.1. Укажите личность, представленную на Рис.1. (1 балл)



Рис.1

- А. А.Д. Меншиков
- Б. Э.И. Бирон
- В. М.М. Сперанский

Г. К.П. Победоносцев

Ответ: Б

32.2 Какие из перечисленных событий относятся к представленной личности?
(1 балл)

- А. Был регентом Российской империи
- Б. Президент Военной коллегии
- В. Обер-прокурор Святейшего синода
- Г. Государственный секретарь Российской империи
- Д. Его сын был последним герцогом Курляндии
- Е. Отбывал ссылку в Пилыме
- Ж. Являлся мужем Анны Леопольдовны

Ответ: А,Д,Е

Задание 33.

33.1. Укажите, какое событие изображено на Рис.1. (1 балл)




Рис.1

- А. Полет человека в космос
- Б. Первый полет вокруг Земли
- В. Запуск первого спутника Земли
- Г. Первый полет на Луну

Ответ: В

33.2. Определите, когда оно произошло? (1 балл)

- А.1961 г.
- Б. 1949 г.
- В.1957 г.
- Г. 1988 г.

Ответ: В

Задание 34. Американцы после победы СССР в освоении космоса признали свое поражение. Почему СССР достиг успеха, по мнению США? (1 балл)

- А. Захват немецких технологий СССР
- Б. Технический гений С.П. Королева
- В. Превосходство советской системы образования
- Г. Использование труда заключенных

Ответ: В

Задание 35.

35.1. Укажите название космического аппарата, изображенного на Рис.1
(1 балл)



Рис.1

- А. «Союз»
- Б. «Буран»
- В. «Шаттл»
- Г. «Falcon»

Ответ: Б

35.2. Укажите год, в котором состоялась данная космическая программа?
(1 балл)

- А. 1988 г.
- Б. 1961 г.
- В. 1957 г.
- Г. 1990 г.

Ответ: А

35.3. Укажите верный ответ на вопросы: «Произошел ли полет представленного космического аппарата и был ли он успешен?» (1 балл)

- А. Да – да
- Б. Нет – да
- В. Да – нет
- Г. Нет – нет

Ответ: А

Задание 36.

36.1. Укажите имя русского князя, которому установлен памятник. (1 балл)



Рис.1

- А. Владимир Мономах
- Б. Юрий Долгорукий
- В. Андрей Боголюбский
- Г. Иван Калита

Ответ: Б

36.2. С каким событием связан представленный деятель? (1 балл)

- А. Основание Москвы
- Б. Первое упоминание о Москве в летописях
- В. Создание Московского княжества
- Г. Начало возвышения Москвы

Ответ: Б

Задание 37.

37.1. Сюжет, изображенный на рис.1 послужил отправной точкой исторического процесса. Укажите какого (1 балл)



Рис.1

- А. Собрание русских земель вокруг Москвы во 2-й пол. XV века
- Б. Феодалная война второй четверти XV века в Северо-Восточной Руси
- В. Противостояние Московского княжества и Великого Княжества Литовского
- Г. Окончательное избавление от Ордынской зависимости


Ответ: Б

37.2. Что послужило для него поводом? (1 балл)

- А. Ярлык на великое княжение, полученный в Орде
- Б. Позиция Русской Православной Церкви
- В. Противостояние Москвы и Твери
- Г. «Духовная грамота» Дмитрия Ивановича Донского

Ответ: Г

Задание 38. В этих строках написанных автором на Рис.1 речь идет об историческом событии:



«Как четвертого числа
Нас нелегкая несла
Горы занимать...»

Рис.1

38.1. Определите автора строк _____ (1 балл)

38.2. Определите, о каком событии идет речь (1 балл)

- А. битва на р. Альте
- Б. сражение на р. Черной
- В. Осада Севастополя
- Г. Прорыв англо-французской эскадры в Азовское море.

Ответ: Б

Задание 39. Сопоставьте операции РККА в годы Великой Отечественной войны с воинскими объединениями и соединениями, принимавшими в них участие и периодам их проведения. (6 баллов)



Рис.1

Операции РККА	Воинские объединения и соединения	Период проведения операций
1. Ясско-Кишиневская операция	А. Карельский фронт и Северный фронт	I. 7 октября-1 ноября 1944 г.
2. Вторая Ржевско-Сычѳвская операция («Марс»)	Б. 2-й и 3-й украинский фронт	II. 8 апреля – 6 июня 1944 г.
3. Среднедонская наступательная операция («Малый Сатурн»)	В. Калининский и Западный фронты	III. 25 ноября – 20 декабря 1942 г.
4. Петсамо-Киркенесская операция	Г. Юго-Западный и Воронежский фронты	IV. 16-30 декабря 1942 г.

Ответ: 1-А-I, 2-В-II, 3-Г-III, 4-Б-IV

Задание 40. Распределите участников политического кризиса в РФ в сентябре-октябре 1993 г. согласно занятым в конфликте сторонам (2 балла)

А. Сторонники президента	Б. Сторонники парламента
4,1,7,3	6,2,8,5

1. Лужков Ю.М.
2. Хасбулатов Р.И.
3. Гайдар Е.Т.
4. Черномырдин В.С.
5. Антипов А.Н.
6. Руцкой А.В.
7. Грачев П.С.
8. Дунаев А.Ф.

Ответ: А – 4,1,7,3

Б – 6,2,8,5

Задание 41. Сторонниками, какой формы правления в годы Первой революции в России выступали политические партии. Установите соответствие между политическими партиями и формой правления (1 балл)

- | | |
|---------------------------|--------------------------------------|
| А. Большевики | 1. конституционная монархия |
| Б. Союз Михаила Архангела | 2. буржуазная республика |
| В. Кадеты | 3. сохранение монархии без изменений |
| Г. Октябристы | 4. диктатура пролетариата |

Ответы: А-4, Б-3, В-1, Г-2.

Задание 42. В комитет по военным и морским делам РСФСР в октябре (ноябре) 1917 г. входили (выберите три правильных варианта ответа) (1 балл)

- А. Л.Д. Троцкий;
- Б. В.А. Антонов-Овсеенко;
- В. А.А. Брусилов;
- Г. П.Е. Дыбенко;
- Д. Н.В. Крыленко;
- Е. Н.Н. Духонин

Ответ: Б,Г,Д

Задание 43. Укажите, когда состоялось событие, изображенное на нижеследующем рисунке (1 балл)



Рис. 1.

- А. 23 августа 1939 года;
- Б. 28 сентября 1939 года;
- В. 13 апреля 1941 года;
- Г. 2 сентября 1945 года

Ответ: В

Задание 44. Среди нижеперечисленных исторических фактов укажите одно верное утверждение: (1 балл)

-
- А. город Одесса был построен на месте турецкой крепости Еникале в 1770 году;
 - Б. последний раз крымские татары совершили набег на земли Российской империи в 1775 году;
 - В. австрийский император Иосиф был решительным противником присоединения Крыма к России в 1783 году;
 - Г. русский дипломат А.М. Обресков в период русско-турецкой войны 1768 – 1774 гг. провел в турецком плену четыре года
-

Ответ: Г

Задание 45.

45.1. Какому американскому президенту принадлежит фраза: «Я - берлинец!»? (1 балл)

- А. Гарри Трумэну;
- Б. Дуайту Эйзенхаэру;
- В. Джону Кеннеди;

Г. Линдону Джонсону

Ответ: В

45.2. Определите события и явления, характеризующие правление этого американского президента (выберите три правильных варианта ответа) (3 балла)

- А. на основе идеи неолиберализма (неокейнсианства) экономистов Гэлбрейта и Геллера введены инфляция и дефицит государственного бюджета;
- Б. реализация программы создания «Великого общества» (борьба с бедностью);
- В. запущена программа «Аполлон», целью которой была высадка американцев на Луну;
- Г. принятие Акта о гражданских правах, уничтожившего расовую сегрегацию на Юге США;
- Д. прекращение выпуска серебряных монет в связи с постоянным удорожанием серебра

Ответ: А, В, Д

Задание 46. Лозунг «Жизнь в кредит!» был характерен для 1920-х годов социально-экономической жизни: (1 балл)

- А. Германии;
- Б. Великобритании;
- В. СССР;
- Г. США

Ответ: Г

Задание 47.

47.1. Укажите, когда состоялось событие, изображенное на нижеследующем рисунке (0,5 балла)



Рис. 1.

- А. 1815 год;
- Б. 1830 год;
- В. 1856 год;
- Г. 1878 год

Ответ: Г

47.2. Укажите участников данного исторического события, выбрав пять правильных вариантов ответа: (2,5 балла)

- А. Российская империя;
- Б. Третья французская республика;
- В. Пруссия;
- Г. Великобритания;
- Д. Османская Порта;
- Е. Болгария;
- Ж. Германская империя;
- З. Пятая французская республика;
- И. Сардинское королевство;
- К. Герцогство Бранденбургское

Ответ: А, Б, Г, Д, Ж

Задание 48. Укажите, на территории, какой страны в 1919 г. существовала советская республика: (1 балл)

- А. Румыния;
- Б. Нидерланды;
- В. Бельгия;
- Г. Венгрия;
- Д. Финляндия;

Е. Эстония

Ответ: Г

Задание 49. Какой советский военачальник, принимал участие в освобождении от белогвардейских войск города Юзовка в январе 1920 года?

(1 балл)



А. М.Н. Тухачевский;

Б. В. К. Блюхер;

В. С.М. Буденный;

Г. Б.М. Шапошников

Ответ: В

Задание 50. Расположите события 1941-1945 гг. в хронологической последовательности (1 балл)

А. операция «Полководец Румянцев»;

Б. операция «Уран»;

В. операция «Согласие»;

Г. операция «Искра»

Ответ: В, Б, Г, А.